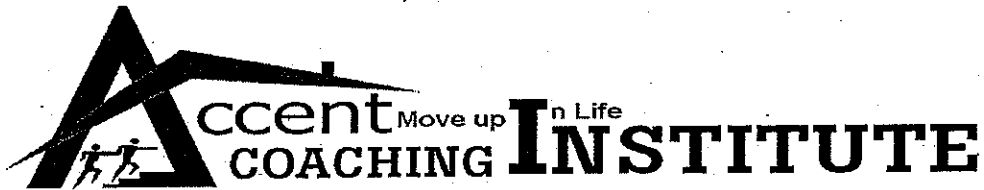


WEEKLY TEST 1202 (KVS)



SERIAL NO.....H-1202 KVS

NOVEMBER 5, 2016

TIME 1 HOUR

ACCENT INSTITUTE

95/B , HET RAM PARK COLONY, BEHIND SBI MAIN BRANCH, HISAR

Candidate Name .....

Father's Name .....

Registration No.....

Authority Sign.....

Candidate Sign.....

FOR MORE TEST SERIES CONTACT: SURAJ SHARMA 95410-79129

AJAY SHARMA 96716-39776



**ENGLISH**

**Directions (1-3) :** In the following questions, some part of the sentences have errors and some are correct. Find out which part of a sentence has an error. The number of that part is the answer. If a sentence is free from error, then your answer is (4) i.e., No error.

1. Could you please give me (1)/ a postal address (2)/ of the Indian Embassy in New York. (3)/. No error (4)
2. Short stories and poems (1)/ of varying quality (2)/ appears in dailies and periodicals (3)/. No error (4)
3. One of the (1)/ most dangerous disease (2)/ is AIDS (3)/. No error (4)

**Directions (4-7) :** In the following questions, sentences are given with blanks to be filled with an appropriate word(s). Four alternatives are suggested for each question. Choose the correct alternative out of the four.

4. Throughout his career, his performance has fairly been \_\_\_\_\_.  
(1) consistence  
(2) consistent  
(3) consisting  
(4) constituted
5. I convey my thanks \_\_\_\_\_ the members of the club.  
(1) for (2) of  
(3) to (4) about
6. The government \_\_\_\_\_ on this issue.  
(1) is divided  
(2) are divided  
(3) is being divided  
(4) divided
7. The student is yet to \_\_\_\_\_ his home task.  
(1) completion (2) compete  
(3) complete (4) continue

**Directions (8-10) :** In the following questions, out of the four alternatives, choose the one which best expresses the meaning of the given word.

8. Hard  
(1) difficult (2) simple  
(3) common (4) easy
9. Humorous  
(1) witty (2) innovative  
(3) fashionable (4) timid
10. Gather  
(1) scatter (2) disperse  
(3) congregate (4) separate

**Directions (11-12) :** In the following questions, choose the word opposite in meaning to the given word.

11. Slave  
(1) surf (2) landlord  
(3) master (4) tenant
12. Deep  
(1) shallow (2) hollow  
(3) steep (4) low

**Directions (13-15) :** In the following questions, groups of four words are given. In each group, one word is correctly spelt. Find the correctly spelt word.

13. (1) Eleution (2) Elocation  
(3) Elocution (4) Elocutium
14. (1) Juxtaposition  
(2) Justaposition  
(3) Jaxtaposition  
(4) Jaustaposition
15. (1) Hazardous (2) Hazardos  
(3) Hazzardous (4) Hazardus

**हिन्दी**

**निर्देश (16-18) :** निम्नलिखित प्रश्न के वाक्यों में से कुछ में त्रुटियाँ हैं और कुछ ठीक हैं। त्रुटि वाले वाक्य के जिस भाग में त्रुटियाँ हों, उसके अनुरूप अंक [(1), (2), (3)] को चुनें। यदि वाक्य में कोई त्रुटि न हो, तो विकल्प (4) को चुनें।

16. मैं फल लेने गई थी (1)/ बाजार में भारी भरकम भीड़ था (2)/ बाजार में चलना मुश्किल था (3)/ कोई त्रुटि नहीं। (4)

17. साहित्य और समाज में घोर संबंध है (1)/ दोनों एक दूसरे के पूरक हैं (2)/ साहित्य के बिना समाज की कल्पना बेकार है (3)/ कोई त्रुटि नहीं। (4)
18. मेरी सहेली लगातार रोए जा रही थी (1)/ उसके आँसू रुक नहीं रहे थे (2)/ मेरी रूमाल भी आँसू से भीग गया (3)/ कोई त्रुटि नहीं। (4)

**निर्देश (19-22) :** निम्नलिखित प्रश्न के वाक्यों में रिक्त स्थानों को उचित शब्दों द्वारा पूर्ति के लिए चार-चार विकल्प दिए गए हैं। उपयुक्त विकल्प चुनिए।

19. गाँधीजी ने विश्वशांति के लिए प्रेम और \_\_\_\_\_ का मार्ग बताया।  
(1) दया (2) सहयोग  
(3) अहिंसा (4) त्याग
20. आशा का \_\_\_\_\_ जीवन के अंधकार को दूर करता है।  
(1) दीपक (2) प्रयास  
(3) विस्तार (4) संयोग
21. शिक्षा का वास्तविक \_\_\_\_\_ मानव को पूर्णता प्रदान करना है।  
(1) चिह्न (2) लक्षण  
(3) उद्देश्य (4) सेवा
22. मेरी \_\_\_\_\_ बीमार है।  
(1) स्त्री (2) पत्नी  
(3) महिला (4) सौभाग्यवती

**निर्देश (23-24) :** निम्नलिखित प्रश्न के शब्दों के पर्याय (समानार्थक शब्द) के लिए चार-चार विकल्प दिए गए हैं। उचित विकल्प चुनिए।

23. धरती  
(1) भूधर (2) भुजंग  
(3) भवानी (4) भूमि
24. जंगल  
(1) विटप (2) आनन  
(3) कानन (4) वृक्ष

**निर्देश (25-26) :** निम्नलिखित प्रश्न में दिए गए शब्दों के विलोम के लिए चार-चार विकल्प प्रस्तावित हैं। उचित विकल्प का चयन कीजिए।

25. पक्ष  
(1) सपक्ष (2) विपक्ष  
(3) अपक्ष (4) सापक्ष
26. लौकिक  
(1) परलोक (2) इहलोक  
(3) अलौकिक (4) भूलोक
- निर्देश (27-28) : निम्नलिखित प्रश्न में दिए गए चार वाक्यों में एक वाक्य शुद्ध है और तीन अशुद्ध हैं। शुद्ध वाक्य को चुनिए।
27. (1) मेरा ध्यान अपने मित्र की ओर था।  
(2) मेरे ध्यान मेरे मित्र की ओर थे।  
(3) मुझका ध्यान अपने मित्र की ओर था।  
(4) मेरे ध्यान अपने मित्र की ओर था।
28. (1) संभवतः उनका आना निश्चित है।  
(2) निश्चित है उनका आना।  
(3) संभवतः निश्चित है उनका आना।  
(4) उनका आना निश्चित है।
- निर्देश (29-30) : निम्नलिखित प्रश्न में दिए गए मुहावरों और लोकोक्तियों के अर्थ बताने के लिए चार-चार विकल्प दिए गए हैं। प्रत्येक के लिए उपयुक्त अर्थ वाला विकल्प चुनिए।
29. घाट-घाट का पानी पीना  
(1) अलग-अलग परिस्थितियों का अनुभव होना।  
(2) विरोध करना।  
(3) कई स्थानों के पानी की जाँच करना।  
(4) समझदारी के कार्य करना
30. जैसी करनी वैसी भरनी  
(1) कर्म के अनुसार फल प्राप्त होता है।  
(2) कुछ भी प्राप्त नहीं होता।  
(3) निरंतर प्रयत्न करना।  
(4) अनुभवहीन इस संसार को सुखद मानते हैं।

### GENERAL AWARENESS

31. निम्नलिखित में से कौन सा एक प्रकाश संश्लेषी वर्णक नहीं है ?  
(1) पर्णहरित (क्लोरोफिल)  
(2) फाइकोबिलिन  
(3) कैरोटिनाइड  
(4) ऐन्थोसायनिन
32. भारत का राष्ट्रीय फल है  
(1) आम (2) अनन्नास  
(3) सेब (4) अंगूर

33. निम्नलिखित में से कौन सा एक रेशेदार प्रोटीन है ?  
(1) हीमोग्लोबिन (2) ऐल्ब्यूमिन  
(3) किरेटिन (4) एन्जाइम
34. टायफॉइड बुखार किसके द्वारा होता है ?  
(1) जीवाणु (2) विषाणु  
(3) प्रोटोजोआ (4) कवक
35. वर्गीकरण की कैरोलस लिनीयस प्रणाली है  
(1) प्राकृतिक (2) कृत्रिम  
(3) द्विपद (4) जातिवृत्तीय
36. भारत और नेपाल के मध्य आयोजित दसवें संयुक्त सैन्य अभ्यास का क्या नाम है ?  
a. पराक्रम  
b. तेजस  
c. अनिरुद्ध  
d. सूर्यकिरण
37. निम्नलिखित में से किस खिलाड़ी ने मैक्सिकन ग्रॉ प्री खिलाड़िता जीता ?  
a. निको रोसबर्ग  
b. लुईस हैमिल्टन  
c. सेबेस्टियन वेटेल  
d. डेनियल रिकार्डो
38. निम्नलिखित में से किस टीम ने वर्ष 2016 एशियन चैंपियंस हॉकी खिलाड़िता जीता ?  
a. भारत  
b. पाकिस्तान  
c. दक्षिण कोरिया  
d. मलेशिया
39. भारत एवं न्यूजीलैंड के मध्य खेले गये पांच मैचों की अन्तरराष्ट्रीय श्रृंखला में किस खिलाड़ी को मैन ऑफ़ द सीरीज़ घोषित किया गया ?  
a. मार्टिन गुप्तिन  
b. विराट कोहली  
c. हार्दिक पंड्या  
d. अमित मिश्रा
40. किस अंतरराष्ट्रीय संस्था द्वारा जारी रिपोर्ट के अनुसार वर्ष 2020 तक विश्व के दो तिहाई वन्य जीव विलुप्त हो जायेंगे ?  
a. विश्व स्वास्थ्य संगठन  
b. अंतरराष्ट्रीय प्राकृतिक निधि कोष  
c. वर्ल्ड वाइल्डलाइफ फंड  
d. डिस्कवरी चैनल
41. 1 नवम्बर 2016 को मनाये गये 51वें हरियाणा दिवस के अवसर पर मुख्यमंत्री मनोहर लाल खट्टर ने किस पोर्टल का आरंभ किया ?  
a. आधार - देश का विकास बना राज्य

42. प्रधानमंत्री नरेन्द्र मोदी ने किस योजना के तहत पूर्वी भारत के पाँच राज्यों को आगामी वर्षों में खाना पकाने की गैस उपलब्ध कराने का लक्ष्य रखा है ?  
a. प्रगति योजना  
b. जागरूकता योजना  
c. ऊर्जा गंगा  
d. इनमें से कोई नहीं
43. कर्नाटक के किस बांध को हाल ही में विश्व बैंक पुरस्कार दिया गया ?  
a. काबिनी बांध  
b. अलमट्टी बांध  
c. मेत्तूर बांध  
d. इनमें से कोई नहीं
44. हाल ही में निम्न में से किस वियतनाम युद्ध विरोधी कार्यकर्ता का निधन हो गया ?  
a. टॉम हेडन  
b. टॉम लियोन  
c. सर अहमद  
d. इनमें से कोई नहीं
45. निम्न में से किस टेलीकॉम कंपनी ने मिडिया कंपनी टाइम वार्नर को 86 अरब डॉलर में खरीदने की घोषणा की ?  
1. वोडाफोन  
2. एटीएंडटी  
3. एयरटेल  
4. इनमें से कोई नहीं
46. हाल ही में किस देश ने भारत के साथ आतंकवाद का मुकाबला करने तथा मादक पदार्थों की तस्करी पर रोक लगाने में सहयोग हेतु समझौतों पर हस्ताक्षर किए ?  
a. बहरीन  
b. नेपाल  
c. रूस  
d. अमेरिका
47. फीफा फुटबॉल विश्वकप 2018 के शुभंकर के नाम जाबीवाका का क्या अर्थ है ?  
a. जाबीवाका का अर्थ- जो जीत सके  
b. जाबीवाका का अर्थ- जो जीत को आखिरी अंजाम तक ले जा सके  
c. जाबीवाका का अर्थ- जो स्कोर कर सके  
d. उपरोक्त सभी
48. भारतीय वायुसेना द्वारा देश में कितने राष्ट्रीय राजमार्गों को रनवे में

बदलने हेतु चयनित किया गया है?

- a. 20
- b. 21
- c. 22
- d. 23

49. मानव अधिकार कार्यकर्ता इरोम शर्मिला द्वारा बनाई गयी पार्टी का क्या नाम है?

- a. पीपल्स रिसर्च एंड जस्टिस एलायंस
- b. डेमोक्रेटिक पीपल एंड सिटीजन्स अलायंस
- c. ह्यूमन राइट्स प्रोटेक्शन पार्टी
- d. मणिपुर सिटीजन्स पार्टी

50. प्रधानमंत्री नरेंद्र मोदी ने अनुसूचित जाति और जनजाति समुदाय के उद्यमियों की सहायता हेतु किस स्थान पर राष्ट्रीय एससी-एसटी हब आरंभ किया?

- a. चंडीगढ़
- b. भोपाल
- c. लुधियाना
- d. यमुनानगर

51. निम्नलिखित में से किसे यूरोलॉजी सोसाइटी ऑफ़ इंडिया का उत्तरी क्षेत्र का अध्यक्ष चुना गया?

- a. अभिनव मिश्रा
- b. वेद प्रताप
- c. आशीष नौटियाल
- d. एस पी यादव

52. कार-निकोबार श्रेणी के किस युद्धपोत को भारतीय नौसेना में शामिल किया गया?

- a. आईएनएस तिहायु
- b. आईएनएस जम्बुक
- c. आईएनएस देवश्रुषि
- d. आईएनएस तीव्र

53. हाल ही में किस राज्य सरकार द्वारा 'कौशलत्या सेतु' पहल लांच किया गया?

- a. बिहार सरकार
- b. महाराष्ट्र सरकार
- c. पंजाब सरकार
- d. राजस्थान सरकार

54. किस फुटबॉल क्लब ने एफसी कप के फाइनल में पहुँचने वाले पहले भारतीय क्लब बनने का गौरव हासिल किया?

- a. बेंगलुरु एफसी
- b. दिल्ली एफसी
- c. जयपुर एफसी
- d. इनमें से कोई नहीं

55. भारतीय रिज़र्व बैंक के गवर्नर उजित पटेल ने हाल ही में बैंक के केन्द्रीय बोर्ड बैठक की अध्यक्षता की. यह बैठक किस शहर में आयोजित किया गया?

- a. दिल्ली
- b. पुणे
- c. जयपुर
- d. कानपुर

56. उस मार्स रोवर का क्या नाम है जो मंगल की सतह में उतरने के बाद किसी भी संदेश को भेजने में असफल रहा?

- a. शियापरेली
- b. क्यूरियोसिटी
- c. जीएमआरटी
- d. इनमें से कोई नहीं

57. भारत और किस देश के बीच अक्टूबर 2016 में कृषि, बिजली और बुनियादी ढांचे के क्षेत्र में सहयोग बढ़ाने हेतु तीन समझौतों पर हस्ताक्षर किए गए?

- a. पाकिस्तान
- b. भूटान
- c. अमेरिका
- d. म्यांमार

58. किस प्रदेश सरकार ने राष्ट्रविरोधी गतिविधियों में कथित तौर पर संलिप्त 12 कर्मचारियों को सेवा से बर्खास्त कर दिया?

- a. उत्तर प्रदेश
- b. बिहार
- c. जम्मू कश्मीर
- d. राजस्थान

59. किस केन्द्रीय मंत्री ने नई दिल्ली में कर्नाट प्लेस में उपभोक्ता मेला-2016 का उद्घाटन किया?

- a. अरुण जेटली
- b. सुषमा स्वराज
- c. प्रकाश जावडेकर
- d. रामविलास पासवान

60. हाल ही में किसने भाला फेंक खेल में 60 मी पार फेंकने वाली पहली भारतीय महिला बनीं?

- a. अन्नू रानी
- b. दीपा मलिक
- c. नेहा सिंह
- d. इनमें से कोई नहीं

61. विश्वभर में अंतरराष्ट्रीय अनुवाद दिवस 30 सितंबर 2016 को मनाया गया इस वर्ष का विषय क्या था?

- a. अनुवाद एवं व्याख्या: विश्व को जोड़ना
- b. अनुवाद एवं लेखन: विश्व में खेल को जोड़ना

c. अनुवाद एवं कला: विश्व को जोड़ना  
d. अनुवाद एवं अध्ययन: विश्व को जोड़ना

62. हाल ही में किस कंपनी ने ई कॉमर्स प्लेटफॉर्म स्क्वा कॉमर्स लॉन्च किया?

- a. विप्रो
- b. इनफोसिस
- c. अमेजन
- d. इनमें से कोई नहीं

63. किस बांग्लादेशी लेखक का हाल ही में ढका में निधन हो गया?

- a. अविजित राय
- b. सुमोन रहमान
- c. सैय्यद शम्सुल हक
- d. इनमें से कोई नहीं

64. तेलुगु लेखक कोलाकतुरी एनोक को किस पुरस्कार से सम्मानित किया गया?

- a. मूर्तिदेवी पुरस्कार
- b. ज्ञानपीठ पुरस्कार
- c. मैन बुकर पुरस्कार
- d. साहित्य अकादमी पुरस्कार

65. क्यूबा और किस देश ने शांतिपूर्ण परमाणु सहयोग समझौते पर हस्ताक्षर किये?

- a. भारत
- b. पाकिस्तान
- c. नेपाल
- d. रूस

66. ब्रिक्स देशों की श्रम और रोजगार मंत्रियों की बैठक हाल ही में किस शहर में संपन्न हुआ?

- a. नई दिल्ली
- b. जयपुर
- c. पटना
- d. पुणे

67. आर सुब्रमण्य कुमार किस बैंक के कार्यकारी निदेशक नियुक्त किये गए?

- a. भारतीय स्टेट बैंक
- b. पंजाब नेशनल बैंक
- c. देना बैंक
- d. इंडियन ओवरसीज बैंक

68. वित्त मंत्रालय ने लघु बचत योजनाओं में अक्टूबर-दिसम्बर 2016 की तिमाही में प्रदान किए जाने वाली ब्याज दर में कितने प्रतिशत कमी करने की घोषणा की?

- a. 0.1%
- b. 0.5%
- c. 0.4%
- d. 0.9%

69. हाल ही में किसने तटरक्षक कमांडरों के 35वें सम्मेलन का उद्घाटन किया?

- a. नरेन्द्र मोदी  
b. मनोहर परिकर  
c. राजनाथ सिंह  
d. इनमें से कोई नहीं
70. निम्नलिखित में से किसे फ्रांस सरकार द्वारा नाईट इन द नेशनल ऑर्डर ऑफ़ मेरिट उपाधि से सम्मानित किया गया?

- a. किशन चंद रावत  
b. प्रग्ना चौदा  
c. देवेन्द्र प्रताप  
d. केवल आनंद

**निर्देश (71-74) :** निम्नलिखित प्रत्येक प्रश्न में दिए गए विकल्पों में से संबंधित अक्षर/शब्द/संख्या को चुनिए।

71. डॉक्टर : अस्पताल :: शिक्षक : ?

- (1) फील्ड (2) प्रयोगशाला  
(3) स्कूल (4) उद्योग

72. ZX : AC :: VT : ?

- (1) EG (2) DF  
(3) AB (4) AE

73. 5 : 28 :: 8 : ?

- (1) 40 (2) 64  
(3) 25 (4) 67

74. CAT : 3120 :: MAT : ?

- (1) 1312 (2) 10120  
(3) 13120 (4) 12120

**निर्देश (75-82) :** निम्नलिखित प्रत्येक प्रश्न में दिए गए विकल्पों में से विषम शब्द/अक्षरों/संख्या को चुनिए।

75. (1) एशिया (2) कनाडा

- (3) यूरोप (4) अफ्रीका

76. (1) वायलिन (2) सितार

- (3) बाँसुरी (4) पियानो

77. (1) मीटर (2) इंच

- (3) लीटर (4) यार्ड

78. (1) STU (2) MLN

- (3) QRS (4) XYZ

79. (1) 1, 2, 4, 7 (2) 2, 3, 4, 9

- (3) 3, 2, 4, 8 (4) 4, 2, 3, 9

80. (1) 9, 10 (2) 24, 25

- (3) 2, 3 (4) 20, 21

81. (1) 83 (2) 64

- (3) 56 (4) 98

82. (1) महासागर (2) जलप्रपात

- (3) तालाब (4) नदी

83. निम्नलिखित विकल्पों में से कौन-सा विकल्प नीचे दिए हुए शब्दों का सार्थक क्रम दर्शाता है ?

1. मकान 2. महल

3. बैंगला 4. झोंपड़ी

- (1) 1, 2, 3, 4 (2) 2, 3, 1, 4

- (3) 3, 2, 1, 4 (4) 4, 1, 3, 2

84. निम्नलिखित को आरोही क्रम में व्यवस्थित कीजिए :

1. सेंटीमीटर 2. किलोमीटर

3. डेसीमीटर 4. मीटर

- (1) 1, 3, 4, 2 (2) 2, 4, 3, 1

- (3) 3, 1, 2, 4 (4) 4, 2, 1, 3

**निर्देश (85-86) :** निम्नलिखित प्रत्येक प्रश्न में अक्षरों का कौन-सा समूह खाली स्थानों पर क्रमवार रखने से दी गई अक्षर शृंखला को पूरा करेगा ?

85. m \_ m \_ am \_ a \_

- (1) amam (2) ammm

- (3) amaa (4) mama

86. a \_ ba \_ b \_ b \_ a \_ b

- (1) abaab (2) aabba

- (3) bbabb (4) abbab

**निर्देश (87-92) :** निम्नलिखित प्रत्येक प्रश्न में एक अनुक्रम दिया है, जिसमें एक पद लुप्त है। दिए गए विकल्पों में से वह सही विकल्प चुनिए जो अनुक्रम को पूरा करे।

87. ICE, JDF, KEG, LFH, ?

- (1) MIG (2) MHG

- (3) MGI (4) HHI

88. EFGH, MNOP, QRST, ?

- (1) QRTS (2) VLMN

- (3) UVWX (4) JKHK

89. BY, GT, LO, ?, VE

- (1) PJ (2) QJ

- (3) QK (4) QP

90. 1, 8, 17, 30, ?, 76

- (1) 39 (2) 49

- (3) 59 (4) 69

91. 12, 8, 14, 6, 16, ?

- (1) 18 (2) 32

- (3) 5 (4) 4

92. 1, 6, 13, 22, 33, ?

- (1) 47 (2) 43

- (3) 46 (4) 44

93. ऐन, वरुण से 300 दिन बड़ी है और संदीप, ऐन से 50 सप्ताह बड़ा है। यदि संदीप मंगलवार को पैदा हुआ था, तो वरुण किस दिन पैदा हुआ था ?

- (1) सोमवार (2) गुरुवार

- (3) मंगलवार (4) शुक्रवार

94. दस वर्ष पूर्व हेमा, गीता से आयु में दुगुनी बड़ी थी। यदि अब से दस वर्ष बाद हेमा की आयु 40 वर्ष होगी, तो आज गीता की आयु क्या है ?

- (1) 25 वर्ष (2) 20 वर्ष

- (3) 15 वर्ष (4) 35 वर्ष

95. दिए गए विकल्पों में से उस शब्द को चुनिए जिसे दिए गए शब्द के अक्षरों के प्रयोग द्वारा बनाया जा सकता है।

IMMEASURABLE

- (1) BAILABLE (2) BLUE

- (3) MEAT (4) BIBLE

96. एक कूट भाषा में, 'FORGE' को 'FPTJI' लिखा जाता है, तो उसी कूट भाषा में 'CULPRIT' को किस प्रकार लिखा जाएगा ?

- (1) CVNSVNZ (2) CSJNPGR

- (3) CVMQSTU (4) CXOSULW

97. निम्नलिखित प्रश्न निम्नलिखित कोड सेट पर आधारित है :

अंक 1 3 5 4 6 0 8 7 2

कोड A O Z L D T N H Q

21500 के लिए कोड बताइए।

- (1) SLPHO (2) SHLPO  
(3) SLOPH (4) QAZTT

98. यदि  $2 \times 16 = 8$ ;  $8 \times 8 = 1$ ;  $6 \times 12 = 2$ , तो  $12 \times 144 = ?$

- (1) 11 (2) 12

- (3) 16 (4) 24

99. कुछ समीकरण किसी विशेष प्रणाली के आधार पर हल किए गए हैं। अनुत्तरित समीकरण को उसी प्रणाली का प्रयोग करके हल कीजिए।

यदि  $10 - 3 = 12$ ,  $12 - 4 = 13$ ,

$14 - 5 = 14$ , तो  $16 - 6 = ?$

- (1) 10 (2) 15

- (3) 16 (4) 18

**निर्देश (100-102) :** निम्नलिखित प्रत्येक प्रश्न में दिए गए विकल्पों में से लुप्त संख्या ज्ञात कीजिए।

2	4	3	1	5	4
265	16	1	81	256	?

- (1) 125 (2) 25

- (3) 625 (4) 1225

101. 1 3 7

2 4 4

4 5 9

3 2 3

50 70 ?

- (1) 23 (2) 115

- (3) 118 (4) 220

102. 13 9 24

11 ? 6

16 20 10

- (1) 11 (2) 20

- (3) 19 (4) 16

103. श्रीमान् दास ने अपने घर से 12 किमी की दूरी पर अपने मित्र के घर के लिए सीधे यात्रा शुरू की। वह वापसी पर उसी मार्ग पर 8 किमी चले और दाएँ मुड़कर 4 किमी चले, फिर वह अपने बाएँ मुड़े और 4 किमी चले। अंत में वह अपने बाएँ मुड़े और 2 किमी चले। वह अपने घर से कितनी दूरी पर थे ?

- (1) 8 किमी (2) 4 किमी

- (3) 6 किमी (4) 2 किमी

104. सीता और गीता ने A बिन्दु से चलना शुरू किया। सीता उत्तर की ओर 6 किमी चली और तब दाएँ मुड़कर 3 किमी चली। उसके बाद वह दाएँ मुड़कर दक्षिण की ओर 6 किमी चली। वह फिर से बाएँ मुड़कर 3 किमी चलकर B बिन्दु पर पहुँच गई। गीता पश्चिम की ओर 3 किमी चली और बाएँ मुड़कर 6 किमी चली; वह फिर से बाएँ मुड़कर 9 किमी चली और C बिन्दु पर पहुँच गई। B बिन्दु, C बिन्दु से कितनी दूर है ?

- (1) 3 किमी (2) 4 किमी

- (3) 9 किमी (4) 6 किमी

KVS

105. दिए गए कथनों के सम्बन्ध में कौन-सा निष्कर्ष सही है ?

कथन :

आनन्द एक कलाकार है।

कलाकार सुन्दर होते हैं।

निष्कर्ष :

(1) सभी सुन्दर लोग कलाकार होते हैं।

(2) आनन्द सुन्दर है।

(3) आनन्द सुन्दर नहीं है।

(4) सुन्दर लोग कलाकार नहीं होते हैं।

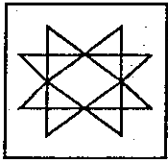
106. A, B की बहन है। C, B की माता है। D, C का पिता है। E, D की माता है। तो A का D से क्या सम्बन्ध है ?

(1) नानी (2) नाना

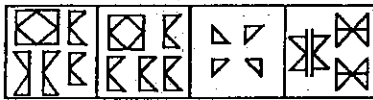
(3) पुत्री (4) पोती

107. ऐसी उपयुक्त उत्तर आकृति चुनिए जिससे प्रश्न आकृति बनाई गई है।

प्रश्न आकृति :



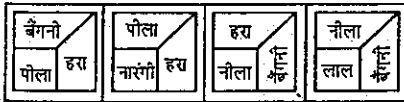
उत्तर आकृतियाँ :



(1) (2) (3) (4)

108. कौन-सा रंग बैंगनी का विपरीत रंग है ?

प्रश्न आकृतियाँ :

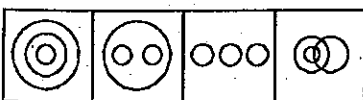


(1) नीला (2) नारंगी

(3) लाल (4) हरा

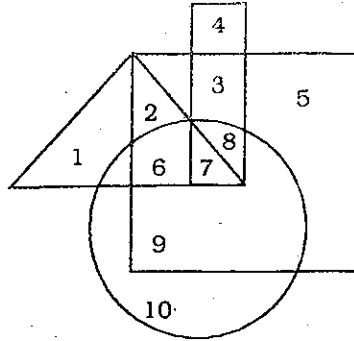
109. वह आरेख चुनिए जो नीचे दिए गए वर्गों के बीच सम्बन्ध का सही निरूपण करता है।

ऑक्सीजन, कार्बन डाइऑक्साइड और वातावरण



(1) (2) (3) (4)

110. वेन आरेख के सम्बन्ध में कौन-सा कथन सही है ?



(1) 6, 7 और 8 सभी आकृतियों में हैं।

(2) 1, 5 और 9 सभी आकृतियों में हैं।

(3) 1, 9 और 10 सभी आकृतियों में हैं।

(4) 1, 2 और 6 त्रिभुज में हैं।

### TEACHING APTITUDE

111. "विकास कभी न समाप्त होने वाली प्रक्रिया है।" यह विचार किससे सम्बन्धित है?

(1) एकीकरण का सिद्धांत

(2) अंतः क्रिया का सिद्धांत

(3) अंतःसम्बन्ध का सिद्धांत

(4) निरंतरता का सिद्धांत

112. बच्चों के बौद्धिक विकास की चार विशिष्ट अवस्थाओं की पहचान की गई।

(1) स्किनर द्वारा (2) पियाजे द्वारा

(3) कोहलबर्ग द्वारा (4) एरिकसन द्वारा

113. बच्चों की सीखने की प्रक्रिया में माता-पिता को ..... भूमिका निभानी चाहिए।

(1) सहानुभूतिपूर्ण (2) तटस्थ

(3) नकारात्मक (4) अप्रोन्मुखी

114. 'सीखने के अंतःदृष्टि सिद्धांत' को किसने बढ़ावा दिया?

(1) जॉन पियाजे

(2) वाइगोत्स्की

(3) 'गेस्टाल्ट' सिद्धांतवादी

(4) पैवलॉव

115. सीखने की प्रक्रिया में, अभिप्रेरणा

(1) शिक्षार्थियों को एक दिशा में सोचने के योग्य बनाती है।

(2) शिक्षार्थियों में सीखने की प्रति रुचि का विकास करती है।

(3) शिक्षार्थियों की स्मरण-शक्ति को पैना बनाती है।

(4) पिछले सीखे हुए को नए अधिगम से अलग करती है।

116. निम्नलिखित में से कौन-सा बुद्धिमान बच्चे का लक्षण नहीं है?

(1) वह जो अर्भूत रूप से सोचता रहता है

(2) वह जो नए परिवेश में स्वयं को समायोजित कर सकता है

(3) वह जो लंबे निबंधों को बहुत जल्दी रटने की क्षमता रखता है

(4) वह जो प्रवाहपूर्ण एवं उचित तरीके से संप्रेषण करने की क्षमता रखता है

117. वह कौन-सा स्थान है जहाँ बच्चे के 'संज्ञानात्मक' विकास को सबसे बेहतर तरीके से परिभाषित किया जा सकता है?

(1) सभागार

(2) घर

(3) खेल का मैदान

(4) विद्यालय एवं कक्षा पर्यावरण

118. वह अवस्था जब बच्चा तार्किक रूप से वस्तुओं व घटनाओं के विषय में चिंतन प्रारंभ करता है, है

(1) पूर्व-संक्रियात्मक अवस्था

(2) मूर्त-संक्रियात्मक अवस्था

(3) संवेदी-प्रेरक अवस्था

(4) औपचारिक-संक्रियात्मक अवस्था

119. निम्नलिखित में से कौन-सा बच्चे की सामाजिक-मनोवैज्ञानिक आवश्यकताओं के साथ संबद्ध नहीं है?

(1) शरीर से अपशिष्ट पदार्थों का नियमित रूप से बाहर निकलना

(2) सान्निध्य (संगति) की आवश्यकता

(3) सामाजिक अनुमोदन अथवा सराहना की आवश्यकता

(4) संवेगात्मक सुरक्षा की आवश्यकता

120. निम्नलिखित में से कौन-सा शिक्षार्थियों में सृजनात्मकता का पोषण करता है?

(1) विद्यालयी जीवन के प्रारंभ से उपलब्धि के लक्ष्यों पर बल देना

(2) परीक्षा में अच्छे अंकों के लिए विद्यार्थियों की कोचिंग करना

(3) अच्छी शिक्षा के व्यावहारिक मूल्यों के लिए विद्यार्थियों का शिक्षण

(4) प्रत्येक शिक्षार्थी की अंतर्जात प्रतिभाओं का पोषण करने एवं प्रश्न करने के अवसर उपलब्ध कराना

ACCENT INSTITUTE

95/B, HET RAM PARK COLONY, BEHIND SBI MAIN BRANCH, HISAR

121. 'मन का मानचित्रण' संबंधित है-

- (1) मन का चित्र बनाने से
- (2) मन की क्रियाशीलता पर अनुसंधान से
- (3) बोध (समझ) बढ़ाने की तकनीक से
- (4) साहसिक कार्यों की क्रिया-योजना से

122. "एक बच्चा अतीत की समान परिस्थिति में की गई अनुक्रियाओं के आधार पर नई स्थिति के प्रति अनुक्रिया करता है।" यह किससे संबंधित है?

- (1) सीखने की प्रक्रिया का 'अभिवृत्ति-नियम'
- (2) सीखने की 'तत्परता-नियम'
- (3) सीखने का 'सादृश्यता-नियम'
- (4) सीखने का 'प्रभाव-नियम'

123. विशेष रूप से प्राथमिक स्तर पर विद्यार्थियों की सीखने सम्बन्धी समस्याओं को संबोधित करने का सबसे बेहतर तरीका है

- (1) सरल और रोचक पाठ्य-पुस्तकों का प्रयोग करना
- (2) कहानी-कथन पद्धति का प्रयोग करना
- (3) अक्षमता के अनुरूप विभिन्न शिक्षण-पद्धतियों का प्रयोग करना
- (4) महंगी और चमकदार सहायक सामग्री का प्रयोग करना

124. विशेष आवश्यकता वाले बच्चों को शिक्षा उपलब्ध कराई जानी चाहिए

- (1) विशेष विद्यालयों में
- (2) विशेष विद्यालयों में विशेष शिक्षकों द्वारा
- (3) अन्य सामान्य बच्चों के साथ
- (4) विशेष विद्यालयों में विशेष बच्चों के लिए विकसित पद्धतियों द्वारा

125. 'डिस्लेक्सिया' किससे संबंधित है?

- (1) पठन विकार
- (2) व्यवहार-सम्बन्धी विकार
- (3) मानसिक विकार
- (4) गणितीय विकार

126. .... 'प्रतिभाशाली' होने का संकेत नहीं है।

- (1) अभिव्यक्ति में नवीनता
- (2) जिज्ञासा
- (3) सृजनात्मक विचार
- (4) दूसरों के साथ झगड़ना

127. पाँचवी कक्षा के 'दृष्टिकोणित' विद्यार्थी

- (1) के साथ कक्षा में सामान्य रूप से व्यवहार किया जाना चाहिए और श्रव्य सी.डी के माध्यम से सहायता उपलब्ध कराई जानी चाहिए
- (2) के साथ कक्षा में विशेष व्यवहार किया जाना चाहिए
- (3) को निचले स्तर के कार्य करने की छूट मिलनी चाहिए
- (4) के माता-पिता और मित्रों द्वारा उसे दैनिक कार्यों को करने में सहायता की जानी चाहिए

128. निम्नलिखित में से कौन-से कथन को सीखने की प्रक्रिया की विशेषता नहीं मानना चाहिए?

- (1) सीखना लक्ष्योन्मुखी होता है
- (2) अन-अधिगम भी सीखने की प्रक्रिया है
- (3) शैक्षिक संस्थान ही एकमात्र स्थान है जहाँ अधिगम प्राप्त होता है
- (4) सीखना एक व्यापक प्रक्रिया है

129. सीखना समृद्ध हो सकता है यदि

- (1) शिक्षक विभिन्न प्रकार के व्याख्यान और स्पष्टीकरण का प्रयोग करें
- (2) कक्षा में आवधिक परीक्षाओं पर आपेक्षित ध्यान दिया जाए
- (3) वास्तविक दुनिया से उदाहरणों को कक्षा में लाया जाए जिसमें विद्यार्थी एक-दूसरे से अंतःक्रिया करें और शिक्षक उस प्रक्रिया को सुगम बनाए
- (4) कक्षा में अधिक-से-अधिक शिक्षण-सामग्री का प्रयोग किया जाए

130. आकलन को 'उपयोगी और रोचक' प्रक्रिया बनाने के लिए ..... के प्रति सचेत होना चाहिए।

- (1) शैक्षिक और सह-शैक्षिक क्षेत्रों में विद्यार्थी के सीखने के बारे में जानकारी प्राप्त करने के लिए विविध तरीकों का प्रयोग करना
- (2) प्रतिपुष्टि (फीडबैक) देने के लिए तकनीकी भाषा का प्रयोग करना
- (3) अलग-अलग विद्यार्थियों में तुलना करना
- (4) विद्यार्थियों को बुद्धिमान या औसत शिद्यार्थी की उपाधि देना

131. एक शिक्षक अपने लौकतांत्रिक स्वभाव के कारण विद्यार्थियों को पूरी कक्षा में कहीं भी बैठने की अनुमति देता है। कुछ शिक्षार्थी एक-साथ बैठते हैं और चर्चा करते हैं या सामूहिक पठन करते हैं। कुछ चुपचाप

बैठकर अपने-आप पढ़ते हैं। एक अधिभावक को यह पसंद नहीं आता। इस स्थिति से निबटने का निम्न में से कौन-सा तरीका सबसे बेहतर हो सकता है?

- (1) अधिभावकों को शिक्षक पर विश्वास व्यक्त करना चाहिए और शिक्षक के साथ समस्या पर चर्चा करनी चाहिए
- (2) अधिभावकों को उस विद्यालय से अपने बच्चे को निकाल लेना चाहिए
- (3) अधिभावकों को प्रधानाचार्य से शिक्षक की शिकायत करनी चाहिए
- (4) अधिभावकों को प्रधानाचार्य से अनुपेक्ष करना चाहिए कि वे उनके बच्चे का अनुभाग बदले दें

132. प्राथमिक स्तर पर एक शिक्षक में निम्नलिखित में से किसे सबसे महत्वपूर्ण विशेषता मानना चाहिए?

- (1) शिक्षक-पद्धतियों और विषयों के ज्ञान में दक्षता
- (2) अति मानक भाषा में पढ़ाने में दक्षता
- (3) पढ़ाने की उत्सुकता
- (4) धैर्य और दृढ़ता

133. .... को एक अभिप्रेरित शिक्षण का संकेतक माना जाता है।

- (1) विद्यार्थियों द्वारा प्रश्न पूछना
- (2) कक्षा में एकदम खामोशी
- (3) कक्षा में अधिकतम उपस्थिति
- (4) शिक्षक द्वारा दिया गया उपचारात्मक कार्य

134. निचली कक्षाओं में शिक्षा की खेल-पद्धति मूल रूप से आधारित है

- (1) विकास एवं वृद्धि के मनोवैज्ञानिक सिद्धान्तों पर
- (2) शिक्षण के समाजशास्त्रीय सिद्धान्तों पर
- (3) शारीरिक शिक्षा कार्यक्रमों के सिद्धान्तों पर
- (4) शिक्षण-पद्धतियों के सिद्धान्तों पर

135. शिक्षा के क्षेत्र में 'पाठ्यचर्चा' शब्दावली ..... की ओर संकेत करती है।

- (1) मूल्यांकन-प्रक्रिया
- (2) कक्षा में प्रयुक्त की जाने वाली पाठ्य सामग्री
- (3) शिक्षण-पद्धति एवं पढ़ाई जाने वाली विषय-वस्तु
- (4) विद्यालय का संपूर्ण कार्यक्रम जिसमें विद्यार्थी प्रतिदिन अनुभव प्राप्त करते हैं

ACCENT INSTITUTE

95/B, HET RAM PARK COLONY, BEHIND SBI MAIN BRANCH, HISAR

136. पियाजे के अनुसार, निम्नलिखित में से कौन-सी अवस्था में बच्चा अमूर्त संकल्पनाओं के विषय में तार्किक चिंतन करना आरंभ करता है?

- (1) संवेदी-प्रेरक अवस्था (जन्म-02 वर्ष)
- (2) पूर्व-सक्रियात्मक अवस्था (02-07 वर्ष)
- (3) मूर्त-सक्रियात्मक अवस्था (07-11 वर्ष)
- (4) औपचारिक-सक्रियात्मक अवस्था (11 वर्ष एवं ऊपर)

137. एक शिक्षक को अपने विद्यार्थियों की क्षमताओं को समझने का प्रयास करना चाहिए। निम्नलिखित में से कौन-सा क्षेत्र इस उद्देश्य के साथ संबद्ध है?

- (1) भौटिया-मनोविज्ञान
- (2) शिक्षा-मनोविज्ञान
- (3) शिक्षा समाजशास्त्र
- (4) सामाजिक दर्शन

138. कृतिका अक्सर घर में ज्यादा बात नहीं करती, लेकिन विद्यालय में वह काफी बात करती है। यह दर्शाता है कि

- (1) कृतिका को अपना घर बिल्कुल पसंद नहीं है
- (2) उसके विचारों को विद्यालय में मान्यता मिलती है
- (3) विद्यालय हर समय बच्चों को खूब बात करने का अवसर देता है
- (4) शिक्षकों की यह मांग होती है कि बच्चे विद्यालय में खूब बात करें

139. "बच्चे दुनिया के बारे में अपनी समझ का सृजन करते हैं।" इसका श्रेय ..... को जाता है।

- (1) कोहलबर्ग
- (2) स्किनर
- (3) पियाजे
- (4) पैवलोव

140. निम्नलिखित में से किस अवस्था में बच्चे अपने समवयस्क समूह के सक्रिय सदस्य हो जाते हैं?

- (1) पूर्व बाल्यावस्था
- (2) बाल्यावस्था
- (3) किशोरावस्था
- (4) प्रौढ़ावस्था

141. 'शिक्षा मनोविज्ञान विज्ञान की वह शाखा है जो शिक्षण और सीखने के साथ संबंधित है।' इस विचार के समर्थक हैं :

- (1) कोलिसनिक
- (2) स्किनर
- (3) स्टीफन
- (4) जुड

142. शिक्षा मनोविज्ञान शिक्षा स्थितियों के संदर्भ में संबंधित है :

- (1) शिक्षण एवं अधिगम प्रक्रिया से
- (2) सामाजिक संबंधों की अभिव्यक्ति से
- (3) मानव विकास के विधिवत अध्ययन से
- (4) ज्ञानेन्द्रियों से परे की अनुभूतियों से

143. लिन्डग्रेन अधिगम प्रक्रिया को ऐसी प्रक्रिया मानते हैं जिसके द्वारा :

- (1) मानसिक स्वास्थ्य एवं समायोजन संभव है।
- (2) व्यक्तिगत भिन्नताओं की जानकारी होती है।
- (3) छात्र अपने व्यवहार में परिवर्तन लाते हैं।
- (4) छात्र सामूहिक रूप से कक्षा समूह में समाविष्ट होते हैं।

144. वे कारक जो अधिगम एवं अधिगम प्रक्रिया को प्रभावित करते हैं, कहलाते हैं :

- (1) अधिगम अनुभव
- (2) अधिगम स्थिति
- (3) अधिगम प्रक्रिया
- (4) शिक्षण स्थिति

145. शिक्षा मनोविज्ञान के अधिगम अनुभव में सम्मिलित हैं :

- (1) प्रभावशाली अधिगम के नियम एवं विधियाँ
- (2) अधिगम प्रक्रिया की प्रकृति
- (3) छात्रों के परिपक्वता स्तर के अनुसार विषय-वस्तु
- (4) मूल्यांकन प्रविधियाँ एवं कार्य विधियाँ

146. शिक्षा मनोविज्ञान सीखने की अवस्थाओं में शिष्य के व्यवहार का अध्ययन करता है। व्यवहार के शारीरिक आधार हैं :

- (1) स्नायु संस्थान एवं ग्रंथियाँ
- (2) मनोभाव
- (3) अनुकरण
- (4) संवेग

147. मापन एवं मूल्यांकन में सहायक है :

- (1) अनुसंधान
- (2) शिक्षा सांख्यिकी
- (3) अधिगम प्रक्रिया
- (4) निर्देशन एवं परामर्श

148. निम्न में से कौन सा लिंडग्रेन द्वारा निर्देशित शिक्षा का प्रमुख केन्द्र बिन्दु नहीं है ?

- (1) शिक्षार्थी
- (2) सीखने की प्रक्रिया
- (3) सीखने की परिस्थितियाँ
- (4) व्यक्तित्व और बुद्धि

149. रूसो के इस कथन से क्या अभिप्राय है कि 'बच्चा एक पुस्तक की तरह है, जिसके प्रत्येक पृष्ठ का अध्यापक को अध्ययन करना है।'

- (1) छात्रों के संपूर्ण व्यक्तित्व का विकास किया जाना चाहिए।
- (2) छात्रों के जीवन को समृद्ध और विकसित करना।
- (3) छात्रों में समायोजन की समस्या का अध्ययन करना।
- (4) अध्यापक छात्रों को निर्देशन के साथ परामर्श भी दे।

150. अध्यापकों की व्यक्तिगत संतुष्टि तथा कठिनाइयों को तुरंत हल करने में सहायक है:

- (1) क्रियात्मक अनुसंधान
- (2) अधिगम अनुभव
- (3) रेखीय अभिक्रमित अनुदेशन
- (4) मूल्यांकन

**Accent** Move up in Life  
**COACHING INSTITUTE**